








Среди данных фигур найдите
прямоугольники.



Начертите прямоугольник со сторонами
6 см и 4 см. Найдите его периметр.

6 см



4 см

Периметр


Формула периметра?

➤ $P = (a + b) \times 2$

➤ $P = (6 + 4) \times 2 = 20 \text{ см}$

Найдите площадь прямоугольника

6 см



4 см

$$S = a \cdot b$$

а-длина, b-ширина

Найдите площадь прямоугольника, если его длина 15 см, а ширина в 3 раза меньше.

15 см



$$S = ? \text{ см}^2$$

? см, в 3 раза м.

$$S=a \cdot b$$

➤ Решение:

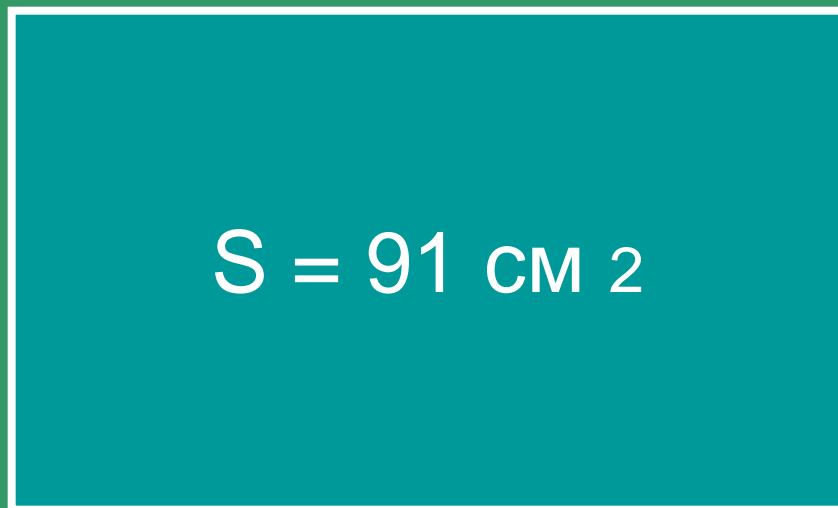
1) $15 : 3 = 5$ (дм) - ширина.

2) $15 \times 5 = 75$ (дм 2) – площадь.

➤ Ответ: 75 дм 2.

Проблема: как найти ширину по площади и длине?

7 см



?см